

МИНИСТЕРСТВО ОБРАЗОВАНИЯ И НАУКИ
РЕСПУБЛИКИ КАЗАХСТАН

НАЦИОНАЛЬНЫЙ ЦЕНТР ТЕСТИРОВАНИЯ

Пробное тестирование

Вариант 4146

ФИО _____

Город (область) _____

Район _____

Школа _____ Класс _____

Профильный предмет 1 **География**

Профильный предмет 2 **Всемирная История**

Подпись учащегося _____

Внимание!

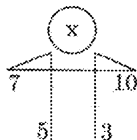
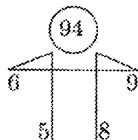
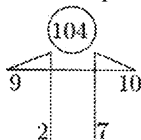
Данная книжка пробного тестирования разработана и прошла экспертизу в Национальном центре тестирования. Во избежание недостоверных копий, следует приобретать данную книжку пробного тестирования в Национальном центре тестирования и его филиалах.

Астана 2018

МАТЕМАТИЧЕСКАЯ ГРАМОТНОСТЬ

Инструкция: Вам предлагаются задания с одним правильным ответом из пяти предложенных. Выбранный ответ необходимо отметить на листе ответов путем полного закрашивания соответствующего кружка.

- 6 кг яблок и 5 кг бананов стоят 50 зедов. Сколько стоят 18 кг яблок и 15 кг бананов?
A) 160 зедов
B) невозможно определить
C) 150 зедов
D) 140 зедов
E) 145 зедов
- Напишите самое маленькое четырёхзначное число, которое при делении на 6 даёт в остатке 5.
A) 1000
B) 1100
C) 1001
D) 1010
E) 1002
- В каждой из предложенной фигур числа расположены в одинаковой закономерности. Найдите X



- A) 99
B) 101
C) 83
D) 85
E) 80
- Пять землекопов за 5 часов выкапывают 5 метров канавы. Сколько землекопов выкопают 100 метров канавы за 100 часов?
A) 100 землекопов
B) 25 землекопов
C) 20 землекопов
D) 50 землекопов
E) 5 землекопов

5. На пять сотрудников фирмы выделены три путевки. Сколькими способами их можно распределить, если все путевки одинаковы?
- A) 15
B) 12
C) 9
D) 10
E) 5
6. Чайка может подниматься на высоту 2000 м, а беркут на 5 % выше чем чайка. Журавль может подниматься на высоту, равную $\frac{31}{41}$ высоты полета чайки и беркута, вместе взятых

Графа А	Графа В
Высота полета журавля	3 км

Выберите верное утверждение:

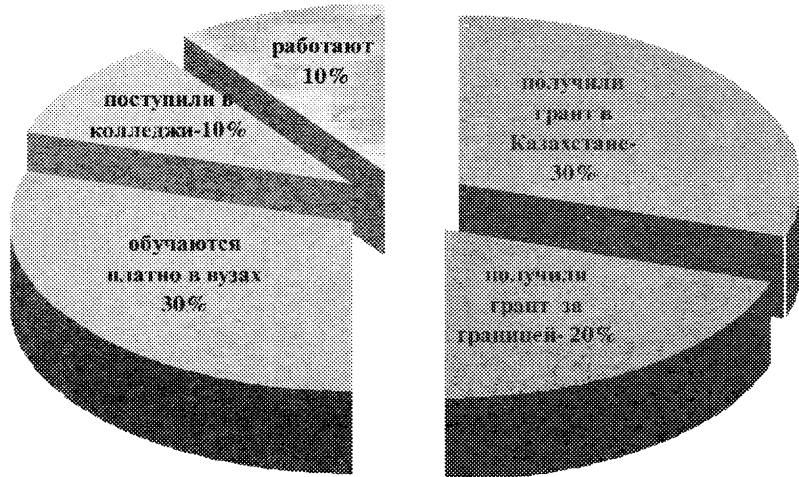
- A) $A > B$
B) $A = B$
C) значение графы В на 100 м больше
D) $A < B$
E) значение графы А на 100 м меньше
7. Над имеющимся числом разрешается производить два действия: умножить его на 2 или прибавлять к нему 2. За какое минимальное число действий вы сможете получить из числа 1 число 100?
- A) 9 действий
B) 6 действий
C) 7 действий
D) 5 действий
E) 8 действий
8. За январь, февраль, март зарплата составила в сумме 309000 тенге, а за апрель, май, июнь – 336000, при этом в течении календарного года она ежемесячно увеличивалась на одну и ту же величину. Определите зарплату за сентябрь?
- A) 118000
B) 121000
C) 127000
D) 124000
E) 130000

9. В таблице представлены цены на продукты питания в одном из городов Казахстана. Жаннур пошла в магазин и купила продукты по списку, составленному мамой.

наименование	колбаса- 1 кг	хлеб 1булка	мясо 1 кг	фарш 1 кг	яблоки 1 кг	чай 1пачка	конфеты 1 кг
цена	1600 тенге	80 тенге	2200 тенге	1400 тенге	360 тенге	350 тенге	800 тенге
количество	300 гр	3булки	1,5кг	1 кг	1,2 кг	1пачка	300 гр

- Какую сумму Жаннур потратила на мясные продукты?
- A) 5180 тенге
B) 3600 тенге
C) 5090 тенге
D) 3680 тенге
E) 4000 тенге
10. На окраску кубика ушло 6 г краски. Когда она высохла, кубик распилили на 8 одинаковых кубиков. Сколько понадобится краски, чтобы покрасить неокрашенную часть их поверхностей?
- A) 8 г
B) 12 г
C) 17 г
D) 16 г
E) 6 г
11. Двенадцать друзей взяли 18 сумок в поход. Выберите верное утверждение.
- A) Разница между количеством друзей и количеством сумок простое число
B) Количество сумок в полтора раза больше, чем количество друзей
C) Друзей в 2,5 раза меньше, чем количество сумок
D) Каждый третий взял по 3 сумки
E) Количество сумок составляет $\frac{2}{3}$ от количества друзей
12. Отдел технического контроля обнаружил 5 бракованных книг в партии из случайно отобранных 100 книг. Какова относительная частота появления бракованных книг?
- A) 0,01
B) 0,2
C) 0,05
D) 0,02
E) 0,1

13. В школе 60 выпускников. По диаграмме определите количество выпускников, получивших грант за границей.

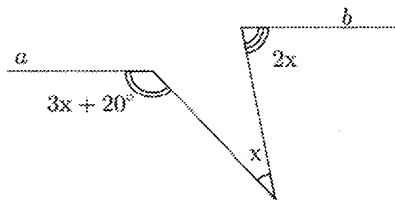


- A) 10
B) 12
C) 15
D) 18
E) 6
14. Число 170 разделили на части, пропорционально квадратам чисел 3 и 5. Найдите абсолютную величину разности этих частей.
A) 80
B) 90
C) нет верного ответа
D) 50
E) 100
15. Во сколько раз увеличится двузначное число, если справа к нему приписать такое же число?
A) 101
B) 11
C) 1001
D) 99
E) 100

16. Если из 36 человек каждый пожмет руку другому только один раз, то сколько рукопожатий получится?
- A) 630
B) 635
C) 645
D) 610
E) 660
17. Ученик при подготовке к экзамену не успел выучить 6 билетов из 25, которые будут предложены на экзамене. Вероятность того, что он не сдаст экзамен, равна
- A) 76%
B) 44%
C) 36%
D) 24%
E) 58%
18. Сколькими различными способами можно прочитывать слово «точка» на этой схеме (начинать с «т» и спускаться вниз до «а»)?

Т
О О
Ч Ч Ч
К К К К
А А А А А

- A) 15
B) 18
C) 14
D) 16
E) 12
19. Учитывая, что $a \parallel b$, по рисунку найдите x



- A) 60°
B) 30°
C) 10°
D) 40°
E) 20°

20. Приближенного подсчета объема стога сена пользуются формулой

$V = \frac{pc^2}{72}$, где V – объем стога сена, $c=13,2$ м (длина окружности основания стога), $p=7,8$ м (длина перекидки стога). Вычислите объем стога сена.

A) 24 м^3

B) 34 м^3

C) 19 м^3

D) 26 м^3

E) 21 м^3

ТЕСТ ПО МАТЕМАТИЧЕСКОЙ ГРАМОТНОСТИ ЗАВЕРШЁН

ГРАМОТНОСТЬ ЧТЕНИЯ

Инструкция: Вам предлагаются тестовые задания к 4 текстам с выбором одного правильного ответа из пяти предложенных. Внимательно прочитайте каждый текст и выполните задания по каждому тексту. Выбранный ответ необходимо отметить на листе ответов путем полного закрашивания соответствующего кружка.

Текст 1**Море и лес**

Мохнатые сизые тучи, словно разбитая стая испуганных птиц, низко несутся над морем. Пронзительный ветер с океана то сбивает их в тёмную сплошную массу, то, словно играя, разрывает и мечет, громоздя в причудливые очертания.

Побелело море, зашумело непогодой. Тяжко встают свинцовые воды и с глухим рокотом катятся в мгlistую даль. Ветер злобно роется по их косматой поверхности, разнося солёные брызги.

Обрываясь крутыми уступами с прибрежных высот, к самому морю хмуро надвинулся дремучий лес. Ветер гудит красными стволами вековых сосен, кренит стройные ели, качая их острыми верхушками и осыпая пушистый снег с печально поникших зелёных ветвей.

Бесследно проходят седые века над молчаливой страной, а дремучий лес стоит и спокойно, точно в глубокой думе, качает темными вершинами.

1. Автор сравнивает тучи
 - A) со стаями птиц
 - B) с пронзительным ветром
 - C) с причудливыми очертаниями
 - D) с глухим рокотом
 - E) с играми птиц
2. Функциональный стиль данного текста
 - A) художественный
 - B) публицистический
 - C) официально-деловой
 - D) научный
 - E) разговорный

Текст 2**Жестов язык**

Жестов язык – коммуникативная система, план выражения которой строится не на акустической, как в звуковых языках, а на кинетической (жестикуляторно-мимической) основе. Распространено мнение, что жестовые языки предшествовали звуковым языкам. Жестовые языки служат основным, а нередко и единственным средством общения глухих. Во многих регионах мира были также распространены жестовые языки слышащих; их существование отмечено в Северной и Южной Америке, Африке, Австралии, Океании, Индии, на Кавказе, в Средиземноморье.

Среди жестовых языков слышащих наиболее известны жестовые языки аборигенов Австралии и Северной Америки. Широкое распространение жестовых языков среди австралийцев связано с ритуальным молчанием юношей во время инициационных обрядов; жестовые языки используются также для коммуникации на расстоянии, для соблюдения тишины на охоте и т.п.

Жестовые языки глухих, наиболее развитые кинетические системы общения, потенциально не уступают по коммуникативным возможностям звуковым языкам, но фактически их лексика беднее лексика развитых литературных языков, что является следствием низкого социолингвистического статуса жестового языка. Структурно эти жестовые языки независимы от звуковых языков. Их родственные связи не определяются родством соответствующих национальных языков. Например, амслен – язык жестов глухих США и большей части Канады – близок к языку глухих Франции, но не родственен языку глухих Великобритании. Язык жестов глухих России (и ряда стран СНГ) также родственен французскому жестовому языку.

3. Утверждения, НЕ соответствующие тексту

1. Жестовые языки нередко являются единственным средством общения глухих.
 2. В жестовых языках глухих наиболее развиты акустические системы общения.
 3. Амслен – язык жестов глухих Африки и Канады.
 4. Жестовые языки предшествовали звуковым языкам.
- A) 1, 4
B) 3, 4
C) 1, 2
D) 1, 3
E) 2, 3

4. Жестов язык в тексте рассматривается в основном как
- A) основной элемент монолога
 - B) способ общения с животными
 - C) неразвитая кинетическая система
 - D) средство общения глухонемых
 - E) результат ритуального молчания
5. Особенность жестовых языков глухих
- A) Жестовый язык обладает высоким социолингвистическим статусом.
 - B) Родственные связи жестовых языков определяются родством национальных языков.
 - C) По своему строению жестовые языки самостоятельны.
 - D) Лексика жестовых языков соотносима с лексикой звуковых языков.
 - E) Жестов язык характерен только для первобытных людей.
6. Значение слова «коммуникация» в тексте
- A) сообщение, общение
 - B) компонент общения
 - C) средство обогащения
 - D) объект общения
 - E) путь сообщения

Текст 3

Древние философы первыми поняли ценность времени – они наверняка еще до Сенеки пробовали как-то обуздать время, приручить, понять его природу, ибо и тогда оно угнетало людей своей быстротечностью.

Однако мы по своему самолюбию уверены, что у древних времени девать было некуда. Что они, со своими солнечными, водяными и песочными часами, измерять его как следует не умели, а значит, и не берегли. Прогресс – он ведь к тому сводится, по мнению делового человека, чтобы сэкономить этому деловому человеку время. Для этого деловой человек из кареты пересел в поезд, оттуда на самолет. Вместо писем придумали телеграммы и телефоны, вместо театров – телевизоры, вместо пуговиц – «молнии», вместо гусяного пера – шариковую ручку. Эскалаторы, компьютеры, универмаги, телетайпы, электробритвы – все изобретается для того, чтобы сберечь человеку время. Однако почему-то нехватка этого времени у человека возрастает. Деловой человек наращивает скорости, внедряет ЭВМ, переделывает универмаги в универсамы, печатает газеты фотоспособом, он и говорить старается лаконичнее, уже не пишет, а диктует в диктофон, а дефицит времени увеличивается. Не только у него – цейтнот становится всеобщим. Недостает времени на друзей, на письма, на детей, нет времени на то, чтобы думать, чтобы не думая постоять в осеннем лесу, слушая черенковый хруст облетающих листьев. Времени нет и у школьников, и у студентов, и у стариков. Время куда-то исчезает, его становится все меньше.

7. Название выражает основную мысль текста

- A) На поиски времени
- B) Время бежит
- C) Делу – время, потехе – час
- D) Нехватка времени – бедствие XXI века
- E) О времени и о себе

8. Парадокс заключается, по мнению автора, в том, что

- A) мозг человека не в состоянии обрабатывать большой поток информации
- B) человек не научился планировать свою жизнь, поэтому и не хватает времени
- C) не хватает времени, потому что люди его много тратят на безделье
- D) высокий ритм жизни не оставляет времени на живое общение людей
- E) техника освободила человека от многого, а времени все равно не хватает ни на что

9. Древние философы имеют отношение к теме текста, так как
- А) известны их призывы не тратить время впустую
 - В) написали стихотворение «О времени»
 - С) жили в 4 веке до нашей эры
 - Д) говорили, что одно лишь время следует беречь
 - Е) сетовали на быстротечность времени
10. Верное утверждение
- А) Время казалось скоротечным и для наших предков.
 - В) Время шло медленно только в эпоху Сенеки.
 - С) Человечество никогда не ценило время.
 - Д) Люди пренебрежительно относились к своему времени и в те века.
 - Е) В современном мире времени все больше.
11. Прогресс сводится к экономии
- А) денег
 - В) времени
 - С) условий
 - Д) скорости
 - Е) сил
12. Стиль текста
- А) научный
 - В) официально-деловой
 - С) художественный
 - Д) разговорный
 - Е) публицистический

Текст 4**Книжный рынок Казахстана**

Исследователи книжного рынка в Казахстане отмечают, что более трети граждан республики не читают и не покупают книги. И все же казахстанцы остаются читающей нацией. По данным социологических агентств, около 60 процентов казахстанцев покупают от 4 до 8 книг в год. При этом многие отмечают, что еще в прошлом веке быть самой читающей в мире нацией было престижно. В каждом доме обязательно была собственная библиотека. Но это время безвозвратно ушло. Сегодня ситуация иная. И дело не только в кризисе, но и, как ни странно, в развитии новых технологий.

По мнению реализаторов книжной продукции, молодые казахстанцы предпочитают находить интересующую их литературу в интернете. «Те, кому за 40, конечно, читают книги, а молодежь от 15 до 18 лет, в основном, компьютерами занимается. Многие читают в интернете», – говорит продавец одного из книжных магазинов в Алматы. В этом книжном магазине, впрочем, как и во многих других, – изобилие всевозможной литературы. Стеллажи полны книг по разным направлениям. В секторе учебной и специальной литературы деловые люди, студенты и школьники целенаправленно ищут необходимые им книги.

Но необходимую информацию найти в интернете намного проще, чем идти в библиотеку, и намного дешевле, чем приобретать книгу в магазине. К тому же, по словам молодых людей, преимущество поиска информации в бесплатных электронных библиотеках заключается еще и в неограниченном выборе различной литературы, и в экономии времени. Удобнее скачать книгу на мобильный телефон или на флэшку, затратив на это минимальное количество времени и средств, чем купить ее.

Как отмечают продавцы книг, литература «практического» направления пользуется большим спросом, чем развлекательная. Отчасти связано это с тем, что спрос на учебники и словари формируют не только рыночные факторы. Определенную роль играет идея о вступлении Казахстана в сообщество 50 конкурентоспособных стран мира.

Эксперты отмечают, что около 16,4 процента населения страны можно отнести к активным покупателям книг. Современный казахстанский читатель выглядит так: чаще всего это люди, возраст которых колеблется от 20 до 50 лет, с высшим образованием. Более молодые читатели весьма практично относятся к приобретаемой литературе, поскольку считают, что необходимо вкладывать средства в повышение своих профессиональных навыков. Тогда как читатель среднего возраста предпочитает не учебную литературу, а классику или историю.

Как рассказывает один из постоянных клиентов книжных магазинов в Алматы, в последнее время появилась новая форма приобретения литературы. Теперь книгами обмениваются, потому что покупать дорого.

Прочитал книгу – отдал, взамен взял другую, – говорит он. – Среди моих друзей пошел какой-то упор на публицистику и фантастику».

Умная и хорошая книга, которая заставляет человека разбирать, рассуждать, сопереживать и, наконец, мыслить масштабно, связывая воедино разрозненные события и явления, постепенно уходит на второй план. В погоне за временем или в стремлении отгородиться от тяжелых будней люди отдают предпочтение легкому чтиву или тому, что наиболее модно.

13. Основная идея текста

- A) молодое поколение выбирает «легкое чтиво»
- B) государство регулирует книжный рынок
- C) падение читательского спроса
- D) предпочтение учебной литературы
- E) новые формы приобретения литературы

14. Чаще всего пользуются Интернетом для чтения книг

- A) мужчины среднего возраста
- B) пожилые люди
- C) женщины
- D) дети
- E) молодежь

15. Государство контролирует выпуск и продажу

- A) художественной литературы
- B) развлекательной литературы
- C) детской литературы
- D) учебных изданий
- E) биографий и мемуаров

16. Самая востребованная литература

- A) художественная
- B) детская
- C) спортивная
- D) медицинская
- E) учебная

17. Стиль текста

- A) публицистический
- B) разговорный
- C) художественный
- D) официально-деловой
- E) научный

18. Литература «практического» направления пользуется большим спросом, чем развлекательная» – это мнение
- A) покупателя
 - B) продавца
 - C) читателя
 - D) молодежи
 - E) эксперта
19. Шестьдесят процентов казахстанцев в среднем покупают в год
- A) 2 книги
 - B) 15 книг
 - C) 5 книг
 - D) 10 книг
 - E) 1 книгу
20. Предложению: *«Люди отдают предпочтение легкому чтиву или тому, что наиболее модно»*, – соответствует утверждение
- A) связывает воедино разрозненные события и явления
 - B) заставляет человека разбирать, рассуждать, сопереживать
 - C) погоня за временем, стремление отгородиться от тяжелых будней
 - D) заставляет мыслить масштабно
 - E) падение интереса к серьёзной литературе

ТЕСТ ПО ГРАМОТНОСТИ ЧТЕНИЯ ЗАВЕРШЁН

ИСТОРИЯ КАЗАХСТАНА

Инструкция: Вам предлагаются задания с одним правильным ответом из пяти предложенных. Выбранный ответ необходимо отметить на листе ответов путем полного закрашивания соответствующего кружка.

1. К энеолиту ученые относят:
 - A) становление патриархального рода
 - B) изготовление лука и стрел
 - C) начало изготовления орудий труда
 - D) выделение человека из мира животных
 - E) формирование человеческого стада
2. Слова «Я отправился с войском в страну Сака; против саков, которые носят островерхие шапки...» (из Бехистунской надписи) принадлежат:
 - A) Киру
 - B) Камбизу
 - C) Ксерксу
 - D) Александру Македонскому
 - E) Дарию I
3. Правитель Западно-Тюркского каганата:
 - A) Шегу
 - B) Мукан
 - C) Сулу
 - D) Бумын
 - E) Ушлик
4. Мигрировавшие в низовье Сырдарьи огузы столкнулись здесь с ожесточенным сопротивлением:
 - A) карлуков
 - B) уйгур
 - C) хазар
 - D) эфталитов
 - E) печенегов
5. «Он распространил свою власть над Дешт-и Кыпчаком. Подданных у него более миллиона человек» - писал Мухаммед Хайдар Дулати о:
 - A) Есиме
 - B) Жангире
 - C) Абулхаире
 - D) Касыме
 - E) Бурундуке

6. Наличие письменности у кангюев подтверждает свидетельство китайских послов о:
- A) заключении письменных договоров с кангюями
 - B) писаных сводах законов
 - C) религиозных текстах
 - D) записках кангюйских путешественников
 - E) кангюйском алфавите
7. Ханов Тауке, Абылая, Абулхаира объединяет единство политики в отношении:
- A) ойратов
 - B) монгол
 - C) туркмен
 - D) мангытов
 - E) дунган
8. Акмолинский внешний округ был создан в:
- A) 1801 г.
 - B) 1835 г.
 - C) 1832 г.
 - D) 1822 г.
 - E) 1841 г.
9. 316 стрелковая дивизия сражалась с фашистскими захватчиками под городом:
- A) Москва
 - B) Минск
 - C) Киев
 - D) Сталинград
 - E) Ленинград
10. «Для начала газета – глаза, уши и язык народа... Народ без газеты по сравнению с народами, у которых есть газета, глух, нем и слеп. Он не видит, не слышит и не рассуждает о происходящем в мире».
- Автором данных слов является:**
- A) К.Сатпаев
 - B) А.Байтурсынов
 - C) Т.Бекин
 - D) А.Иманов
 - E) М.Утемисов
11. Активный участник декабрьских событий 1986 г.:
- A) Т. Рыскулов
 - B) Д. Рахмадиев
 - C) К. Рыскулбеков
 - D) Ж. Молдагалиев
 - E) О. Сулейменов

12. Племена уйсун и кангюев жили на территории Казахстана в период:
- A) I-IV в. н.э.
 - B) VIII в. до н.э. – V в. н.э.
 - C) III в. до н.э. – V в.н.э.
 - D) III-VIII в. н.э.
 - E) VIII-III вв. до н.э.
13. Согласно Геродоту, аргиппеи проживали у «подножья высоких гор», что соотносится с:
- A) Памиром
 - B) Тянь-Шанем
 - C) Алтаем
 - D) Уралом
 - E) Алатау
14. Многолетняя борьба с арабами влияла на политическое положение государства:
- A) огузов
 - B) найманов
 - C) кимаков
 - D) каракитаев
 - E) карлуков
15. Из перечисленных правителей одержал победу в Батпактинской битве («Грязевой битве»):
- A) Тимур-Малика
 - B) Хизр-Ходжа
 - C) Ильяс-Ходжа
 - D) Тоглук-Тимур
 - E) Тимур
16. Монеты III-IV вв., обнаруженные в Присырдарьинском регионе, являются свидетельством развития торговли в государстве:
- A) гуннов
 - B) аланов
 - C) уйсун
 - D) сарматов
 - E) кангюев
17. Российские крепости, основанные в Казахстане в XIX веке:
- A) Ямышевск, Капал, Казалинск
 - B) Верный, Тургай, Иргиз
 - C) Петропавловск, Омск, Актюбинск
 - D) Ямышевск, Семипалатинск, Аягоз
 - E) Уральск, Верный, Гурьев

18. Участники восстания 1916 г. в Тургайской области:
- А) А.Жанбосынов и А.Жангильдин
 - В) Ж.Мамбетов и Б.Ашекеев
 - С) Г.Мусрепов и Г.Мустафин
 - Д) А.Куропаткин и М.Фольбаум
 - Е) Е.Курев и А.Бокейханов
19. Основными местами расселения найманов, кереев, жалаилов до X века были земли:
- А) Южного Казахстана
 - В) между Волгой и Уралом
 - С) Средней Азии
 - Д) Западной Монголии
 - Е) Жетысу
20. «Это обширное погребальное поле, раскинувшееся в широкой пойме правого берега реки Шерубай-Нуры, в 60 км к юго-западу от г. Караганды. Долина р.Нуры в древности являлась одним из обжитых мест Центрального Казахстана. Здесь сохранились памятники разных эпох. Один из них представляет груды глинобитных строений...Вместе с другими комплексами, расположенными вокруг Караганды, могильник составляет важное звено среди памятников эпохи бронзы Центрального Казахстана».
- Речь идет о могильнике:**
- А) Борыказган
 - В) Алакуль
 - С) Пеньки
 - Д) Андроново
 - Е) Дандыбай

ТЕСТ ПО ИСТОРИИ КАЗАХСТАНА ЗАВЕРШЁН

ГЕОГРАФИЯ

Инструкция: Вам предлагаются задания с одним правильным ответом из пяти предложенных. Выбранный ответ необходимо отметить на листе ответов путем полного закрашивания соответствующего кружка.

1. Залив Мирового океана
 - А) Берингов
 - В) Дрейка
 - С) Марианский
 - Д) Мозамбикский
 - Е) Мексиканский
2. Впервые описал почвы «подзолистые, чернозем, каштановые»
 - А) Л.С.Берг
 - В) А.Н.Краснов
 - С) Н.А.Северцов
 - Д) В.В.Докучаев
 - Е) И.В.Мушкетов
3. Метаморфическая горная порода
 - А) гранит
 - В) песчаник
 - С) известняк
 - Д) фосфорит
 - Е) кристаллические сланцы
4. Причины формирования расовых различий
 - А) развитие медицины
 - В) социальная среда
 - С) экологические факторы
 - Д) природно-климатические условия
 - Е) экономическое развитие
5. Тяжелый металл
 - А) свинец
 - В) алюминий
 - С) вольфрам
 - Д) титан
 - Е) магний
6. Река Балкаш-Алакольского бассейна
 - А) Есиль
 - В) Ойыл
 - С) Сырдария
 - Д) Тентек
 - Е) Жем

7. Страна Восточной Европы
 - А) Австрия
 - В) Португалия
 - С) Италия
 - Д) Греция
 - Е) Чехия
8. Энергетика Франции базируется на
 - А) ПЭС
 - В) ВЭС
 - С) ТЭС
 - Д) ГЭС
 - Е) АЭС
9. Страна Латинской Америки, вдоль которой протекает одноименное течение
 - А) Аргентина
 - В) Эквадор
 - С) Перу
 - Д) Венесуэла
 - Е) Колумбия
10. Месторождение асбеста в Казахстане
 - А) Балкаш
 - В) Макат
 - С) Кобырат
 - Д) Капаш
 - Е) Житикара
11. Почвы саванн и влажных вечнозеленых лесов Северной Америки
 - А) каштановые
 - В) красноземы
 - С) черноземы
 - Д) подзолистые
 - Е) бурые
12. Войлочная фабрика, кожевенный и солодковый заводы производят продукцию для населения в городе
 - А) Петропавловск
 - В) Актобе
 - С) Костанай
 - Д) Семей
 - Е) Уральск
13. Страна, испытывающий наибольший дефицит минерального сырья
 - А) Великобритания
 - В) Япония
 - С) Россия
 - Д) Казахстан
 - Е) Китай

14. Причины миграций
- А) экономическая, политическая
 - В) политическая, сезонная
 - С) техногенная, вахтовая
 - Д) военная, экономическая
 - Е) безвозратная, маятниковая
15. Через каждые 33 метра вглубь Земли температура повышается на 1°C. Определите температуру горных пород в шахте на глубине 870 м, с учетом того, что температура слоя земной коры, не зависимо от времени года, равна +10°C
- А) 26,3°C
 - В) 37,3°C
 - С) 36,3°C
 - Д) 36,6°C
 - Е) 30,3°C
16. Описание, которое характеризует восточную часть рельефа Африки
- А) рельеф в основном представлен низкогорьями и плато
 - В) часть платформы в этой части материка сильно опущена
 - С) большую часть территории занимают Капские и Атласские горы
 - Д) большую часть территории занимает Южно-Африканское плоскогорье
 - Е) извержения вулканов отмечается и на равнинах вдоль разломов
17. Территории, граничащие с Восточным Казахстаном
- А) Северо-Казахстанская, Павлодарская области
 - В) Карагандинская, Актюбинская области
 - С) Китай, Россия, Павлодарская область
 - Д) Китай, Россия, Акмолинская область
 - Е) Россия, Китай, Кыргызстан
18. Месторождения Тениз, Карашыганак, Жанажол расположены на территории
- А) Алтая
 - В) Туранской равнины
 - С) Сарыарки
 - Д) Тарбагатая
 - Е) Восточно-Европейской равнины
19. Наибольшее количество стран Африки расположено на побережье
- А) озер Виктория и Танганьика
 - В) Аденского залива
 - С) Гвинейского залива
 - Д) Средиземного моря
 - Е) Мозамбикского пролива

20. Вариант, верно указывающий падение горной реки

	1	2	3	4	5
Высота истока	3000 м	300 м	200 м	700 м	300 м
Высота устья	200 м	100 м	200 м	100 м	500 м

- A) 3
- B) 2
- C) 4
- D) 1
- E) 5

Инструкция: Вам предлагаются задания, в которых могут быть один или несколько правильных ответов. Выбранный ответ необходимо отметить на листе ответов путем полного закрашивания соответствующего кружка.

В тестовых заданиях с выбором одного или нескольких правильных ответов количество правильных ответов может быть не более трех.

21. Осадочные горные породы

- A) мрамор
- B) обсидиан
- C) базальт
- D) диорит
- E) гнейс
- F) уголь
- G) известняк
- H) песок

22. Наивысшая точка Гималаев

- A) Джомолунгма
- B) Аксоран
- C) Чогори
- D) Музтау
- E) Косцюшко
- F) Хан Танири
- G) Аконкагуа
- H) Эльбрус

23. Основная причина экологических проблем Приаралья

- A) эрозия почвы, загрязнение воды
- B) уменьшение лесных угодий
- C) освоение месторождений нефти и газа
- D) неправильное внесение минеральных удобрений
- E) загрязнение воздушного бассейна
- F) добыча полезных ископаемых
- G) нерациональное использование водных ресурсов
- H) строительство водохранилища

24. Титано-магниевый комбинат расположен в городе
- A) Усть-Каменогорск
 - B) Уральск
 - C) Актау
 - D) Актобе
 - E) Тараз
 - F) Павлодар
 - G) Кокшетау
 - H) Аксу
25. Страна – лидер по добыче и запасам газа
- A) Япония
 - B) Ливия
 - C) Канада
 - D) Индия
 - E) Китай
 - F) Россия
 - G) Кувейт
 - H) Бразилия
26. Самая плодородная почва
- A) желтоземы
 - B) бурые
 - C) подзолистые
 - D) красноземы
 - E) красно-бурые
 - F) сероземы
 - G) каштановые
 - H) черноземы
27. Горообразование Жетысуского Алатау
- A) каледонское
 - B) протерозойское
 - C) байкальское
 - D) альпийское
 - E) мезозойское
 - F) герцинское
 - G) архейское
 - H) кембрийское
28. Азиатские страны с развитым рыболовством
- A) Бутан
 - B) Иран
 - C) Афганистан
 - D) Япония
 - E) Непал
 - F) Китай
 - G) Монголия
 - H) Йемен

29. Понижают температуру зимы на Туранской равнине до -40°C
- A) арктические воздушные массы
 - B) сибирский антициклон
 - C) умеренные морские воздушные массы
 - D) тропические циклоны
 - E) западные ветры
 - F) тропические воздушные массы
 - G) субтропические воздушные массы
 - H) Северо-Тихоокеанский антициклон
30. Верные утверждения о Дальневосточном экономическом районе России
- A) большое значение имеет уголь Южно-Якутского бассейна
 - B) алмазы добываются в республике Саха
 - C) Братский алюминиевый завод – крупнейший в мире
 - D) крупнейшая в стране Красноярская ГЭС
 - E) коксование угля в Кузбасском бассейне
 - F) металлургия представлена цинковым заводом в г. Белово
 - G) ведется добыча нефти на острове Сахалин
 - H) лесозаготовки ведутся в бассейнах Енисея и Ангары

ТЕСТ ПО ГЕОГРАФИИ ЗАВЕРШЁН

ВСЕМИРНАЯ ИСТОРИЯ

Инструкция: Вам предлагаются задания с одним правильным ответом из пяти предложенных. Выбранный ответ необходимо отметить на листе ответов путем полного закрашивания соответствующего кружка.

1. 53 г.д.н.э римский военачальник, вторгшийся в Парфию:
А) Красс
В) Суитгон
С) Публий Варрд
D) Иосиф Флавий
Е) Гракх
2. Последний царь древнего Рима
А) Красс
В) Тарквиний
С) Тацит
D) Ливий
Е) Нерон
3. Гвардия султанов Айюбидов состояла из рабов
А) сёгунов
В) вилланов
С) мамлюков
D) самураев
Е) сипахов
4. В 1539 году французский король Франциск I объявил в качестве государственного языка:
А) французский
В) испанский
С) английский
D) латинский
Е) немецкий
5. Автор произведения «Король Лир»
А) Мигель де Сервантес
В) Уильям Шекспир
С) Франсуа Рабле
D) Томас Мор
Е) Леонардо да Винчи
6. В средневековых университетах Европы обычно изучались богословие, юридическая наука и
А) математика
В) медицина
С) география
D) философия
Е) история

7. Мавзолеем Ходжи Ахмеда Йасауи построен по приказу:
 - А) Мухаммед шаха
 - В) Бабура
 - С) Чингисхана
 - Д) Тимура
 - Е) Улугбека
8. На западе Монголии в 1635 г. образовалось государство:
 - А) Империя Цин
 - В) Сибирское ханство
 - С) Моголистан
 - Д) Империя Великих моголов
 - Е) Джунгарское ханство
9. Средневековое государство где существовала проверочная палата:
 - А) Япония
 - В) Китай
 - С) Иран
 - Д) Османская империя
 - Е) Монголия
10. Американскую регулярную армию в годы войны за независимость возглавлял
 - А) Д. Вашингтон
 - В) Т. Костюшко
 - С) Т. Джефферсон
 - Д) С. Адамс
 - Е) Б. Франклин
11. Южная Монголия в 1644 г. вошла в состав:
 - А) Империи Цин
 - В) Империи Великих моголов
 - С) Моголистана
 - Д) Тибета
 - Е) Восточного Туркестана
12. Томас Мор считал, что причиной всех бедствий народа является:
 - А) развитие науки
 - В) милитаризация государства
 - С) частная собственность
 - Д) плохое образование правителей
 - Е) экспансия европейских государств
13. В Палестинской автономии в 2007 г. разгорелась борьба между
 - А) «Партия Аллаха» и «Дустур»
 - В) «Хамас» и «Фатх»
 - С) «Хизбуллах» и «Партия Аллаха»
 - Д) «Фатх» и «Хизбуллах»
 - Е) «Дустур» и «Кадима»

14. Осенью 1978 г. в Кэмп-Дэвиде был подписан договор между
- А) Египтом и Израилем
 - В) СССР и Испанией
 - С) Сирией и СССР
 - Д) Англией и Сирией
 - Е) Израилем и Англией
15. В мае 1971 г. Договор о дружбе, мире и сотрудничестве заключил с Советским Союзом государство:
- А) Иордания
 - В) Ливан
 - С) Палестина
 - Д) Израиль
 - Е) Египет
16. Условия выплаты репараций Германией после Первой мировой войны были облегчены в результате принятия:
- А) «Плана Маршала»
 - В) «Нового курса»
 - С) «Плана Барбаросса»
 - Д) «Версальского договора»
 - Е) «Плана Дауэса»
17. Ультралевая террористическая группировка в Италии во второй половине XX века:
- А) «Красные бригады»
 - В) «Красная капелла»
 - С) «Вперед Италия»
 - Д) Ку-клукс-клан
 - Е) «Черный террор»
18. Своего наивысшего расцвета и могущества Галицко-Волынское княжество достигло при князе
- А) Юрии Долгоруком
 - В) Владимире Мономахе
 - С) Ярославле Мудром
 - Д) Андрее Боголюбском
 - Е) Ярославле Осмомысле
19. Самыми значимыми людьми в Древнем Египте были:
- А) Крестьяне
 - В) Администраторы
 - С) Посыльные
 - Д) Стражники
 - Е) Писцы

20. «Ныне Япония потребовала на мирной конференции отторжения Циндао и права контроля над Шаньдуном и добилась в этом успеха. Ее победа означает наше поражение. Передача Японии прав в Шаньдуне подрывает суверенитет Китая, что ведет страну к гибели. Поэтому мы, студенты, организованно направляемся к иностранным посольствам, чтобы потребовать от всех стран поддержки, справедливости. Мы надеемся, что рабочие, торговцы и другие слои населения поднимутся и примут меры для созыва национального собрания, защиты национального суверенитета и наказания национальных предателей, ибо от этого зависит существование Китая или его гибель. Все соотечественники ныне должны усвоить ту истину, что нельзя мириться с отторжением территории страны, нельзя допускать, чтобы народ склонил голову».

Определите по тексту, мирную конференцию:

- A) Парижская
- B) Московская
- C) Тегеранская
- D) Потсдамская
- E) Крымская

***Инструкция:** Вам предлагаются задания, в которых могут быть один или несколько правильных ответов. Выбранный ответ необходимо отметить на листе ответов путем полного закрашивания соответствующего кружка.*

В тестовых заданиях с выбором одного или нескольких правильных ответов количество правильных ответов может быть не более трех.

21. К истории Куликовской битвы относится (-ятся):
- A) была самой крупной битвой с монголо-татарами
 - B) завершилась победой Тохтамыша
 - C) завершилась победой монгольской армии
 - D) состоялась в 1378 году
 - E) завершилась победой Дмитрия Донского
 - F) завершилась поражением русских войск
 - G) состоялась в 1380 году
 - H) завершилась заключением перемирия
22. В 1517 г. Мартин Лютер распространил «95 тезисов», содержащие взгляды:
- A) К усилению власти на местах
 - B) За диктат папы римского
 - C) Против насилия церкви
 - D) За насильственные методы борьбы
 - E) За усиление власти государственных учреждений
 - F) Призыва за полное уничтожение церквей
 - G) Против папской индульгенции
 - H) Отрицал понятие «божьей милости»

23. Основные требования предводителя восстания Хун Сюцюаня в 50-годах XIX в:
- A) равенство граждан всего Китая
 - B) единое государственное налогообложение
 - C) поддержка иностранцев, открытие портов
 - D) изгнание маньчжуров
 - E) наделение всех крестьян равным количеством земли
 - F) капитуляция страны войне с Японией
 - G) государство для маньчжурского народа
 - H) расширения границ государства
24. Главные противоборствующие силы французского Конвента периода революции XVIII века:
- A) лоялисты
 - B) диггеры
 - C) левеллеры
 - D) умеренные
 - E) патриоты
 - F) скваттеры
 - G) монтаньяры
 - H) жирондисты
25. По заключительному акту 1815 года новую(ые) территорию(ии) приобрел(-и):
- A) Россия
 - B) Португалия
 - C) Греция
 - D) Турция
 - E) Пруссия
 - F) Испания
 - G) Швейцария
 - H) Австрия
26. Страны, противники в «Холодной войне»:
- A) Италия
 - B) Ирак
 - C) США
 - D) Иран
 - E) Япония
 - F) Франция
 - G) СССР
 - H) Германия

27. В ходе Семилетней войны Англия вытеснила Францию из колониального (-ых) владения(-й):
- А) Центральной Азии
 - В) Южной Америки
 - С) Южной Африки
 - Д) Северной Америки
 - Е) Северной Африки
 - Г) Ост-Индии
 - Г) Юго-Восточной Азии
 - Н) Испанских факторий
28. Руководитель(-и) Японии, проводившую агрессивную внешнюю политику:
- А) Хасимото
 - В) Танаки
 - С) Мураяма
 - Д) Мори
 - Е) Канозэ
 - Г) Коидзуми
 - Г) Абэ
 - Н) Обути
29. В октябре 1935 г. Италия вторглась в государство(-а):
- А) Египет
 - В) Эфиопию
 - С) Алжир
 - Д) Тунис
 - Е) Сирию
 - Г) Кению
 - Г) Ливию
 - Н) Сомали
30. В соответствии с политикой «кнута и пряника» в первой четверти XX века в Индии были приняты:
- А) пакт Риббентропа
 - В) закон Тафта-Хартли
 - С) доктрина Монро
 - Д) закон Роуллетта
 - Е) доктрина Трумэна
 - Г) Стальной пакт
 - Г) кампания Маккарти
 - Н) реформы Монтегю-Челмсфорда

ТЕСТ ПО ВСЕМИРНОЙ ИСТОРИИ ЗАВЕРШЁН

